



# Школьная олимпиада по математике

(2010-2011год)

2 класс

ШИФР \_\_\_\_\_

№	1	2	3	4	5	6	7	8	9	10	итого
Баллы											

## Задание 1.

Три человека ждали поезд 3 часа. Сколько времени ждал каждый?

Ответ: \_\_\_\_\_

## Задание 2.

У Кати вчера был день рождения. Завтра будет пятница. В какой день недели был день рождения Кати?

Ответ: \_\_\_\_\_

## Задание 3

Как называют многоугольник с наименьшим числом сторон ?

Ответ: \_\_\_\_\_

## Задание 4

У Веры 9 карандашей, а у Тани на 4 меньше. Сколько карандашей Вера должна дать Тане, чтобы у обеих девочек карандашей стало поровну ?

**Решение** \_\_\_\_\_

## Задание 5

Найди закономерность и продолжи числовую цепочку

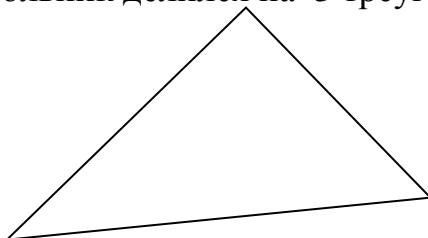
145,139,124,115,

Ответ: \_\_\_\_\_

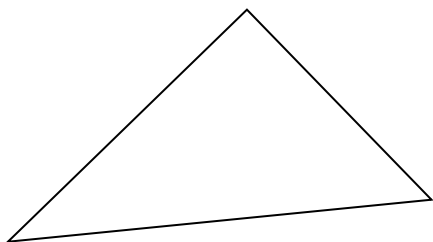
## Заданиб

В данном треугольнике проведи два отрезка так, чтобы

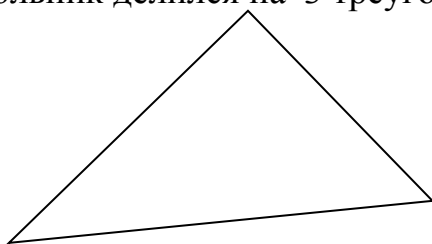
А) треугольник делился на 3 треугольника



Б) треугольник делился на 2 треугольника и 1 четырёхугольник



В) треугольник делился на 3 треугольника и 1 четырёхугольник



**Задание7**

Вырази число 28 пятью двойками, соединив их знаками действий .

Ответ: \_\_\_\_\_  
\_\_\_\_\_

**Задание8**

Кот Матроскин наловил рыбок трёх видов : ершей, пескарей и окуней. Всего он поймал 14 рыбок, ершей оказалось на 10 больше , чем пескарей. Сколько рыбок каждого вида поймал Матроскин?

Ответ: \_\_\_\_\_  
\_\_\_\_\_  
\_\_\_\_\_  
\_\_\_\_\_

**Ты закончил работу. Молодец!**

## Инструкция по проверке олимпиадной работы по математике 2 класс

1 задание проверка логического мышления 1 балл

2 задание проверка логического мышления 2 балла

3 задание проверка логического мышления 3 балла

4 задание проверка логического мышления и вычислительных навыков

Решение с объяснением  $9-4-5$  (к) у Тани

$$9-5=4 \quad 3 \text{ балла}$$

**5 задание** 145,139,132,124,115 ,**105,94,82,69,55**

6 задание геометрический материал а) 1 балл

б) 2 балла

в) 4 балла

7 задание

$$22+2+2+2=28 \quad 5 \text{ баллов}$$

8 задание Ответ: 11 ершей,1 пескарь,2 окуня.

6 баллов

№	1	2	3	4	5	6	7	8	ИТОГО
Баллы	1	2	3	3	8	4	5	6	